

МИНИСТЕРСТВО ПРОСВЕЩЕНИЯ РОССИЙСКОЙ ФЕДЕРАЦИИ

Министерство образования и науки Удмуртской Республики

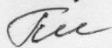
Управление образования Администрации МО «Муниципальный округ

Алнашский район Удмуртской республики»

МКОУ Чем-Куюковская ООШ


РАССМОТРЕНО

«Руководитель
методического
объединения учителей»


Петрова Л.Н.
Протокол №2 от «29»
августа 2023 г.

СОГЛАСОВАНО

Заместитель директора
по УР


Тарасова М.А.
Протокол №4 от «30»
августа 2023 г.

УТВЕРЖДЕНО

Директор школы


Попова А.П.
Приказ №102/01-01 от «31»
августа 2023 г.

РАБОЧАЯ ПРОГРАММА

(ID 389491)

учебного курса «Геометрия»

для обучающихся 7-9 классов

Чемосур-Куюк 2023

ПОЯСНИТЕЛЬНАЯ ЗАПИСКА

Геометрия как один из основных разделов школьной математики, имеющий своей целью обеспечить изучение свойств и размеров фигур, их отношений и взаимное расположение, опирается на логическую, доказательную линию. Ценность изучения геометрии на уровне основного общего образования заключается в том, что обучающийся учится проводить доказательные рассуждения, строить логические умозаключения, доказывать истинные утверждения и строить контрпримеры к ложным, проводить рассуждения «от противного», отличать свойства от признаков, формулировать обратные утверждения.

Второй целью изучения геометрии является использование её как инструмента при решении как математических, так и практических задач, встречающихся в реальной жизни. Обучающийся должен научиться определить геометрическую фигуру, описать словами данный чертёж или рисунок, найти площадь земельного участка, рассчитать необходимую длину оптоволоконного кабеля или требуемые размеры гаража для автомобиля. Этому соответствует вторая, вычислительная линия в изучении геометрии. При решении задач практического характера обучающийся учится строить математические модели реальных жизненных ситуаций, проводить вычисления и оценивать адекватность полученного результата.

Крайне важно подчёркивать связи геометрии с другими учебными предметами, мотивировать использовать определения геометрических фигур и понятий, демонстрировать применение полученных умений в физике и технике. Эти связи наиболее ярко видны в темах «Векторы», «Тригонометрические соотношения», «Метод координат» и «Теорема Пифагора».

Учебный курс «Геометрия» включает следующие основные разделы содержания: «Геометрические фигуры и их свойства», «Измерение геометрических величин», «Декартовы координаты на плоскости», «Векторы», «Движения плоскости», «Преобразования подобия».

На изучение учебного курса «Геометрия» отводится 204 часа: в 7 классе – 68 часов (2 часа в неделю), в 8 классе – 68 часов (2 часа в неделю), в 9 классе – 68 часов (2 часа в неделю).

СОДЕРЖАНИЕ ОБУЧЕНИЯ

7 КЛАСС

Начальные понятия геометрии. Точка, прямая, отрезок, луч. Угол. Виды углов. Вертикальные и смежные углы. Биссектриса угла. Ломаная, многоугольник. Параллельность и перпендикулярность прямых.

Симметричные фигуры. Основные свойства осевой симметрии. Примеры симметрии в окружающем мире.

Основные построения с помощью циркуля и линейки. Треугольник. Высота, медиана, биссектриса, их свойства.

Равнобедренный и равносторонний треугольники. Неравенство треугольника.

Свойства и признаки равнобедренного треугольника. Признаки равенства треугольников.

Свойства и признаки параллельных прямых. Сумма углов треугольника. Внешние углы треугольника.

Прямоугольный треугольник. Свойство медианы прямоугольного треугольника, проведённой к гипотенузе. Признаки равенства прямоугольных треугольников. Прямоугольный треугольник с углом в 30° .

Неравенства в геометрии: неравенство треугольника, неравенство о длине ломаной, теорема о большем угле и большей стороне треугольника. Перпендикуляр и наклонная.

Геометрическое место точек. Биссектриса угла и серединный перпендикуляр к отрезку как геометрические места точек.

Окружность и круг, хорда и диаметр, их свойства. Взаимное расположение окружности и прямой. Касательная и секущая к окружности. Окружность, вписанная в угол. Вписанная и описанная окружности треугольника.

8 КЛАСС

Четырёхугольники. Параллелограмм, его признаки и свойства. Частные случаи параллелограммов (прямоугольник, ромб, квадрат), их признаки и свойства. Трапеция, равнобокая трапеция, её свойства и признаки. Прямоугольная трапеция.

Метод удвоения медианы. Центральная симметрия. Теорема Фалеса и теорема о пропорциональных отрезках.

Средние линии треугольника и трапеции. Центр масс треугольника.

Подобие треугольников, коэффициент подобия. Признаки подобия треугольников. Применение подобия при решении практических задач.

Свойства площадей геометрических фигур. Формулы для площади треугольника, параллелограмма, ромба и трапеции. Отношение площадей подобных фигур.

Вычисление площадей треугольников и многоугольников на клетчатой бумаге.

Теорема Пифагора. Применение теоремы Пифагора при решении практических задач.

Синус, косинус, тангенс острого угла прямоугольного треугольника. Основное тригонометрическое тождество. Тригонометрические функции углов в 30 , 45 и 60° .

Вписанные и центральные углы, угол между касательной и хордой. Углы между хордами и секущими. Вписанные и описанные четырёхугольники. Взаимное расположение двух окружностей. Касание окружностей. Общие касательные к двум окружностям.

9 КЛАСС

Синус, косинус, тангенс углов от 0 до 180° . Основное тригонометрическое тождество. Формулы приведения.

Решение треугольников. Теорема косинусов и теорема синусов. Решение практических задач с использованием теоремы косинусов и теоремы синусов.

Преобразование подобия. Подобие соответственных элементов.

Теорема о произведении отрезков хорд, теоремы о произведении отрезков секущих, теорема о квадрате касательной.

Вектор, длина (модуль) вектора, сонаправленные векторы, противоположно направленные векторы, коллинеарность векторов, равенство векторов, операции над векторами. Разложение вектора по двум неколлинеарным векторам. Координаты вектора. Скалярное произведение векторов, применение для нахождения длин и углов.

Декартовы координаты на плоскости. Уравнения прямой и окружности в координатах, пересечение окружностей и прямых. Метод координат и его применение.

Правильные многоугольники. Длина окружности. Градусная и радианная мера угла, вычисление длин дуг окружностей. Площадь круга, сектора, сегмента.

Движения плоскости и внутренние симметрии фигур (элементарные представления). Параллельный перенос. Поворот.

ПЛАНИРУЕМЫЕ РЕЗУЛЬТАТЫ ОСВОЕНИЯ ПРОГРАММЫ УЧЕБНОГО КУРСА «ГЕОМЕТРИЯ» НА УРОВНЕ ОСНОВНОГО ОБЩЕГО ОБРАЗОВАНИЯ

ЛИЧНОСТНЫЕ РЕЗУЛЬТАТЫ

Личностные результаты освоения программы учебного курса «Геометрия» характеризуются:

1) патриотическое воспитание:

проявлением интереса к прошлому и настоящему российской математики, ценностным отношением к достижениям российских математиков и российской математической школы, к использованию этих достижений в других науках и прикладных сферах;

2) гражданское и духовно-нравственное воспитание:

готовностью к выполнению обязанностей гражданина и реализации его прав, представлением о математических основах функционирования различных структур, явлений, процедур гражданского общества (например, выборы, опросы), готовностью к обсуждению этических проблем, связанных с практическим применением достижений науки, осознанием важности морально-этических принципов в деятельности учёного;

3) трудовое воспитание:

установкой на активное участие в решении практических задач математической направленности, осознанием важности математического образования на протяжении всей жизни для успешной профессиональной деятельности и развитием необходимых умений, осознанным выбором и построением индивидуальной траектории образования и жизненных планов с учётом личных интересов и общественных потребностей;

4) эстетическое воспитание:

способностью к эмоциональному и эстетическому восприятию математических объектов, задач, решений, рассуждений, умению видеть математические закономерности в искусстве;

5) ценности научного познания:

ориентацией в деятельности на современную систему научных представлений об основных закономерностях развития человека, природы и общества, пониманием математической науки как сферы человеческой деятельности, этапов её развития и значимости для развития цивилизации, овладением языком математики и математической культурой как средством познания мира, овладением простейшими навыками исследовательской деятельности;

б) физическое воспитание, формирование культуры здоровья и эмоционального благополучия:

готовностью применять математические знания в интересах своего здоровья, ведения здорового образа жизни (здоровое питание, сбалансированный режим занятий и отдыха, регулярная физическая активность), сформированностью навыка рефлексии, признанием своего права на ошибку и такого же права другого человека;

7) экологическое воспитание:

ориентацией на применение математических знаний для решения задач в области сохранности окружающей среды, планирования поступков и оценки их возможных последствий для окружающей среды, осознанием глобального характера экологических проблем и путей их решения;

8) адаптация к изменяющимся условиям социальной и природной среды:

готовностью к действиям в условиях неопределённости, повышению уровня своей компетентности через практическую деятельность, в том числе умение учиться у других людей, приобретать в совместной деятельности новые знания, навыки и компетенции из опыта других;

необходимостью в формировании новых знаний, в том числе формулировать идеи, понятия, гипотезы об объектах и явлениях, в том числе ранее неизвестных, осознавать дефициты собственных знаний и компетентностей, планировать своё развитие;

способностью осознавать стрессовую ситуацию, воспринимать стрессовую ситуацию как вызов, требующий контрмер, корректировать принимаемые решения и действия, формулировать и оценивать риски и последствия, формировать опыт.

МЕТАПРЕДМЕТНЫЕ РЕЗУЛЬТАТЫ

Познавательные универсальные учебные действия

Базовые логические действия:

- выявлять и характеризовать существенные признаки математических объектов, понятий, отношений между понятиями, формулировать определения понятий, устанавливать существенный признак классификации, основания для обобщения и сравнения, критерии проводимого анализа;
- воспринимать, формулировать и преобразовывать суждения: утвердительные и отрицательные, единичные, частные и общие, условные;

- выявлять математические закономерности, взаимосвязи и противоречия в фактах, данных, наблюдениях и утверждениях, предлагать критерии для выявления закономерностей и противоречий;
- делать выводы с использованием законов логики, дедуктивных и индуктивных умозаключений, умозаключений по аналогии;
- разбирать доказательства математических утверждений (прямые и от противного), проводить самостоятельно несложные доказательства математических фактов, выстраивать аргументацию, приводить примеры и контрпримеры, обосновывать собственные рассуждения;
- выбирать способ решения учебной задачи (сравнивать несколько вариантов решения, выбирать наиболее подходящий с учётом самостоятельно выделенных критериев).

Базовые исследовательские действия:

- использовать вопросы как исследовательский инструмент познания, формулировать вопросы, фиксирующие противоречие, проблему, самостоятельно устанавливать искомое и данное, формировать гипотезу, аргументировать свою позицию, мнение;
- проводить по самостоятельно составленному плану несложный эксперимент, небольшое исследование по установлению особенностей математического объекта, зависимостей объектов между собой;
- самостоятельно формулировать обобщения и выводы по результатам проведённого наблюдения, исследования, оценивать достоверность полученных результатов, выводов и обобщений;
- прогнозировать возможное развитие процесса, а также выдвигать предположения о его развитии в новых условиях.

Работа с информацией:

- выявлять недостаточность и избыточность информации, данных, необходимых для решения задачи;
- выбирать, анализировать, систематизировать и интерпретировать информацию различных видов и форм представления;
- выбирать форму представления информации и иллюстрировать решаемые задачи схемами, диаграммами, иной графикой и их комбинациями;
- оценивать надёжность информации по критериям, предложенным учителем или сформулированным самостоятельно.

Коммуникативные универсальные учебные действия:

- воспринимать и формулировать суждения в соответствии с условиями и целями общения, ясно, точно, грамотно выражать свою точку зрения

- в устных и письменных текстах, давать пояснения по ходу решения задачи, комментировать полученный результат;
- в ходе обсуждения задавать вопросы по существу обсуждаемой темы, проблемы, решаемой задачи, высказывать идеи, нацеленные на поиск решения, сопоставлять свои суждения с суждениями других участников диалога, обнаруживать различие и сходство позиций, в корректной форме формулировать разногласия, свои возражения;
 - представлять результаты решения задачи, эксперимента, исследования, проекта, самостоятельно выбирать формат выступления с учётом задач презентации и особенностей аудитории;
 - понимать и использовать преимущества командной и индивидуальной работы при решении учебных математических задач;
 - принимать цель совместной деятельности, планировать организацию совместной работы, распределять виды работ, договариваться, обсуждать процесс и результат работы, обобщать мнения нескольких людей;
 - участвовать в групповых формах работы (обсуждения, обмен мнениями, мозговые штурмы и другие), выполнять свою часть работы и координировать свои действия с другими членами команды, оценивать качество своего вклада в общий продукт по критериям, сформулированным участниками взаимодействия.

Регулятивные универсальные учебные действия

Самоорганизация:

- самостоятельно составлять план, алгоритм решения задачи (или его часть), выбирать способ решения с учётом имеющихся ресурсов и собственных возможностей, аргументировать и корректировать варианты решений с учётом новой информации.

Самоконтроль, эмоциональный интеллект:

- владеть способами самопроверки, самоконтроля процесса и результата решения математической задачи;
- предвидеть трудности, которые могут возникнуть при решении задачи, вносить коррективы в деятельность на основе новых обстоятельств, найденных ошибок, выявленных трудностей;
- оценивать соответствие результата деятельности поставленной цели и условиям, объяснять причины достижения или недостижения цели, находить ошибку, давать оценку приобретённому опыту.

ПРЕДМЕТНЫЕ РЕЗУЛЬТАТЫ

К концу обучения в 7 классе обучающийся получит следующие предметные результаты:

Распознавать изученные геометрические фигуры, определять их взаимное расположение, изображать геометрические фигуры, выполнять чертежи по условию задачи. Измерять линейные и угловые величины. Решать задачи на вычисление длин отрезков и величин углов.

Делать грубую оценку линейных и угловых величин предметов в реальной жизни, размеров природных объектов. Различать размеры этих объектов по порядку величины.

Строить чертежи к геометрическим задачам.

Пользоваться признаками равенства треугольников, использовать признаки и свойства равнобедренных треугольников при решении задач.

Проводить логические рассуждения с использованием геометрических теорем.

Пользоваться признаками равенства прямоугольных треугольников, свойством медианы, проведённой к гипотенузе прямоугольного треугольника, в решении геометрических задач.

Определять параллельность прямых с помощью углов, которые образует с ними секущая. Определять параллельность прямых с помощью равенства расстояний от точек одной прямой до точек другой прямой.

Решать задачи на клетчатой бумаге.

Проводить вычисления и находить числовые и буквенные значения углов в геометрических задачах с использованием суммы углов треугольников и многоугольников, свойств углов, образованных при пересечении двух параллельных прямых секущей. Решать практические задачи на нахождение углов.

Владеть понятием геометрического места точек. Уметь определять биссектрису угла и серединный перпендикуляр к отрезку как геометрические места точек.

Формулировать определения окружности и круга, хорды и диаметра окружности, пользоваться их свойствами. Уметь применять эти свойства при решении задач.

Владеть понятием описанной около треугольника окружности, уметь находить её центр. Пользоваться фактами о том, что биссектрисы углов треугольника пересекаются в одной точке, и о том, что серединные перпендикуляры к сторонам треугольника пересекаются в одной точке.

Владеть понятием касательной к окружности, пользоваться теоремой о перпендикулярности касательной и радиуса, проведённого к точке касания.

Пользоваться простейшими геометрическими неравенствами, понимать их практический смысл.

Проводить основные геометрические построения с помощью циркуля и линейки.

К концу обучения **в 8 классе** обучающийся получит следующие предметные результаты:

Распознавать основные виды четырёхугольников, их элементы, пользоваться их свойствами при решении геометрических задач.

Применять свойства точки пересечения медиан треугольника (центра масс) в решении задач.

Владеть понятием средней линии треугольника и трапеции, применять их свойства при решении геометрических задач. Пользоваться теоремой Фалеса и теоремой о пропорциональных отрезках, применять их для решения практических задач.

Применять признаки подобия треугольников в решении геометрических задач.

Пользоваться теоремой Пифагора для решения геометрических и практических задач. Строить математическую модель в практических задачах, самостоятельно делать чертёж и находить соответствующие длины.

Владеть понятиями синуса, косинуса и тангенса острого угла прямоугольного треугольника. Пользоваться этими понятиями для решения практических задач.

Вычислять (различными способами) площадь треугольника и площади многоугольных фигур (пользуясь, где необходимо, калькулятором). Применять полученные умения в практических задачах.

Владеть понятиями вписанного и центрального угла, использовать теоремы о вписанных углах, углах между хордами (секущими) и угле между касательной и хордой при решении геометрических задач.

Владеть понятием описанного четырёхугольника, применять свойства описанного четырёхугольника при решении задач.

Применять полученные знания на практике – строить математические модели для задач реальной жизни и проводить соответствующие вычисления с применением подобия и тригонометрии (пользуясь, где необходимо, калькулятором).

К концу обучения **в 9 классе** обучающийся получит следующие предметные результаты:

Знать тригонометрические функции острых углов, находить с их помощью различные элементы прямоугольного треугольника («решение

прямоугольных треугольников»). Находить (с помощью калькулятора) длины и углы для нетабличных значений.

Пользоваться формулами приведения и основным тригонометрическим тождеством для нахождения соотношений между тригонометрическими величинами.

Использовать теоремы синусов и косинусов для нахождения различных элементов треугольника («решение треугольников»), применять их при решении геометрических задач.

Владеть понятиями преобразования подобия, соответственных элементов подобных фигур. Пользоваться свойствами подобия произвольных фигур, уметь вычислять длины и находить углы у подобных фигур. Применять свойства подобия в практических задачах. Уметь приводить примеры подобных фигур в окружающем мире.

Пользоваться теоремами о произведении отрезков хорд, о произведении отрезков секущих, о квадрате касательной.

Пользоваться векторами, понимать их геометрический и физический смысл, применять их в решении геометрических и физических задач. Применять скалярное произведение векторов для нахождения длин и углов.

Пользоваться методом координат на плоскости, применять его в решении геометрических и практических задач.

Владеть понятиями правильного многоугольника, длины окружности, длины дуги окружности и радианной меры угла, уметь вычислять площадь круга и его частей. Применять полученные умения в практических задачах.

Находить оси (или центры) симметрии фигур, применять движения плоскости в простейших случаях.

Применять полученные знания на практике – строить математические модели для задач реальной жизни и проводить соответствующие вычисления с применением подобия и тригонометрических функций (пользуясь, где необходимо, калькулятором).

ТЕМАТИЧЕСКОЕ ПЛАНИРОВАНИЕ 7 КЛАСС

№ п/п	Наименование разделов и тем программы	Количество часов		
		Всего	Контрольные работы	Практические работы
1	Простейшие геометрические фигуры и их свойства. Измерение геометрических величин	14		
2	Треугольники	22	1	
3	Параллельные прямые, сумма углов треугольника	14	1	
4	Окружность и круг. Геометрические построения	14	1	
5	Повторение, обобщение знаний	4	1	
ОБЩЕЕ КОЛИЧЕСТВО ЧАСОВ ПО ПРОГРАММЕ		68	4	0

8 КЛАСС

№ п/п	Наименование разделов и тем программы	Количество часов		
		Всего	Контрольные работы	Практические работы
1	Четырёхугольники	12	1	
2	Теорема Фалеса и теорема о пропорциональных отрезках, подобные треугольники	15	1	
3	Площадь. Нахождение площадей треугольников и многоугольных фигур. Площади подобных фигур	14	1	
4	Теорема Пифагора и начала тригонометрии	10	1	
5	Углы в окружности. Вписанные и описанные четырехугольники. Касательные к окружности. Касание окружностей	13	1	
6	Повторение, обобщение знаний	4	1	
ОБЩЕЕ КОЛИЧЕСТВО ЧАСОВ ПО ПРОГРАММЕ		68	6	0

9 КЛАСС

№ п/п	Наименование разделов и тем программы	Количество часов		
		Всего	Контрольные работы	Практические работы
1	Тригонометрия. Теоремы косинусов и синусов. Решение треугольников	16	1	
2	Преобразование подобия. Метрические соотношения в окружности	10	1	
3	Векторы	12	1	
4	Декартовы координаты на плоскости	9	1	
5	Правильные многоугольники. Длина окружности и площадь круга. Вычисление площадей	8		
6	Движения плоскости	6		
7	Повторение, обобщение, систематизация знаний	7	2	
ОБЩЕЕ КОЛИЧЕСТВО ЧАСОВ ПО ПРОГРАММЕ		68	6	0

ПОУРОЧНОЕ ПЛАНИРОВАНИЕ 7 КЛАСС

№ п/п	Тема урока	Количество часов			Электронные цифровые образовательные ресурсы
		Всего	Контрольные работы	Практические работы	
1	Простейшие геометрические объекты	1			Библиотека ЦОК https://m.edsoo.ru/8866b724
2	Многоугольник, ломаная	1			Библиотека ЦОК https://m.edsoo.ru/8866cb6a
3	Смежные и вертикальные углы	1			Библиотека ЦОК https://m.edsoo.ru/8866c5c0
4	Смежные и вертикальные углы	1			Библиотека ЦОК https://m.edsoo.ru/8866c7be
5	Смежные и вертикальные углы	1			
6	Смежные и вертикальные углы	1			
7	Смежные и вертикальные углы	1			
8	Смежные и вертикальные углы	1			
9	Измерение линейных и угловых величин, вычисление отрезков и углов	1			
10	Измерение линейных и угловых величин, вычисление отрезков и углов	1			Библиотека ЦОК https://m.edsoo.ru/8866c3ea
11	Измерение линейных и угловых величин, вычисление отрезков и углов	1			
12	Измерение линейных и угловых величин, вычисление отрезков и углов	1			
13	Периметр и площадь фигур,	1			

	составленных из прямоугольников		
14	Периметр и площадь фигур, составленных из прямоугольников	1	
15	Понятие о равных треугольниках и первичные представления о равных фигурах	1	Библиотека ЦОК https://m.edsoo.ru/8866ce80
16	Три признака равенства треугольников	1	Библиотека ЦОК https://m.edsoo.ru/8866d1fa
17	Три признака равенства треугольников	1	Библиотека ЦОК https://m.edsoo.ru/8866d34e
18	Три признака равенства треугольников	1	
19	Три признака равенства треугольников	1	Библиотека ЦОК https://m.edsoo.ru/8866e01e
20	Три признака равенства треугольников	1	
21	Три признака равенства треугольников	1	Библиотека ЦОК https://m.edsoo.ru/8866e88e
22	Признаки равенства прямоугольных треугольников	1	
23	Признаки равенства прямоугольных треугольников	1	
24	Свойство медианы прямоугольного треугольника, проведённой к гипотенузе	1	Библиотека ЦОК https://m.edsoo.ru/8866e9ec
25	Свойство медианы прямоугольного треугольника, проведённой к гипотенузе	1	
26	Равнобедренные и равносторонние треугольники	1	Библиотека ЦОК https://m.edsoo.ru/8866d6fa
27	Признаки и свойства равнобедренного треугольника	1	Библиотека ЦОК https://m.edsoo.ru/8866d880

28	Признаки и свойства равнобедренного треугольника	1		Библиотека ЦОК https://m.edsoo.ru/8866d880
29	Признаки и свойства равнобедренного треугольника	1		Библиотека ЦОК https://m.edsoo.ru/8866e26c
30	Неравенства в геометрии	1		
31	Неравенства в геометрии	1		Библиотека ЦОК https://m.edsoo.ru/8866e3a2
32	Неравенства в геометрии	1		
33	Неравенства в геометрии	1		
34	Прямоугольный треугольник с углом в 30°	1		Библиотека ЦОК https://m.edsoo.ru/8866eb22
35	Прямоугольный треугольник с углом в 30°	1		
36	Контрольная работа по теме "Треугольники"	1	1	Библиотека ЦОК https://m.edsoo.ru/8866ecbc
37	Параллельные прямые, их свойства	1		Библиотека ЦОК https://m.edsoo.ru/8866ef64
38	Пятый постулат Евклида	1		
39	Накрест лежащие, соответственные и односторонние углы, образованные при пересечении параллельных прямых секущей	1		Библиотека ЦОК https://m.edsoo.ru/8866f086
40	Накрест лежащие, соответственные и односторонние углы, образованные при пересечении параллельных прямых секущей	1		
41	Накрест лежащие, соответственные и односторонние углы, образованные при	1		

	пересечении параллельных прямых секущей			
42	Накрест лежащие, соответственные и односторонние углы, образованные при пересечении параллельных прямых секущей	1		
43	Накрест лежащие, соответственные и односторонние углы, образованные при пересечении параллельных прямых секущей	1		Библиотека ЦОК https://m.edsoo.ru/8866f3b0
44	Признак параллельности прямых через равенство расстояний от точек одной прямой до второй прямой	1		
45	Признак параллельности прямых через равенство расстояний от точек одной прямой до второй прямой	1		
46	Сумма углов треугольника	1		Библиотека ЦОК https://m.edsoo.ru/8866f630
47	Сумма углов треугольника	1		Библиотека ЦОК https://m.edsoo.ru/8866f8ba
48	Внешние углы треугольника	1		Библиотека ЦОК https://m.edsoo.ru/8866fa5e
49	Внешние углы треугольника	1		
50	Контрольная работа по теме "Параллельные прямые, сумма углов треугольника"	1	1	Библиотека ЦОК https://m.edsoo.ru/8866fe6e
51	Окружность, хорды и диаметр, их свойства	1		Библиотека ЦОК https://m.edsoo.ru/88670800

52	Касательная к окружности	1		Библиотека ЦОК https://m.edsoo.ru/88670e9a
53	Окружность, вписанная в угол	1		
54	Окружность, вписанная в угол	1		
55	Понятие о ГМТ, применение в задачах	1		Библиотека ЦОК https://m.edsoo.ru/8867013e
56	Понятие о ГМТ, применение в задачах	1		Библиотека ЦОК https://m.edsoo.ru/88670508
57	Биссектриса и серединный перпендикуляр как геометрические места точек	1		
58	Окружность, описанная около треугольника	1		Библиотека ЦОК https://m.edsoo.ru/88670a62
59	Окружность, описанная около треугольника	1		
60	Окружность, вписанная в треугольник	1		Библиотека ЦОК https://m.edsoo.ru/8867103e
61	Окружность, вписанная в треугольник	1		
62	Простейшие задачи на построение	1		Библиотека ЦОК https://m.edsoo.ru/88671188
63	Простейшие задачи на построение	1		Библиотека ЦОК https://m.edsoo.ru/886712d2
64	Контрольная работа по теме "Окружность и круг. Геометрические построения"	1	1	Библиотека ЦОК https://m.edsoo.ru/88671462
65	Повторение и обобщение знаний основных понятий и методов курса 7 класса	1		Библиотека ЦОК https://m.edsoo.ru/886715b6

66	Итоговая контрольная работа	1	1	Библиотека ЦОК https://m.edsoo.ru/886716ec
67	Повторение и обобщение знаний основных понятий и методов курса 7 класса	1		
68	Повторение и обобщение знаний основных понятий и методов курса 7 класса	1		Библиотека ЦОК https://m.edsoo.ru/886719bc
	ОБЩЕЕ КОЛИЧЕСТВО ЧАСОВ ПО ПРОГРАММЕ	68	4	0

8 КЛАСС

№ п/п	Тема урока	Количество часов			Электронные цифровые образовательные ресурсы
		Всего	Контрольные работы	Практические работы	
1	Параллелограмм, его признаки и свойства	1			Библиотека ЦОК https://m.edsoo.ru/88671af2
2	Параллелограмм, его признаки и свойства	1			Библиотека ЦОК https://m.edsoo.ru/88671ca0
3	Параллелограмм, его признаки и свойства	1			Библиотека ЦОК https://m.edsoo.ru/88671ca0
4	Частные случаи параллелограммов (прямоугольник, ромб, квадрат), их признаки и свойства	1			Библиотека ЦОК https://m.edsoo.ru/88671dea
5	Частные случаи параллелограммов (прямоугольник, ромб, квадрат), их признаки и свойства	1			Библиотека ЦОК https://m.edsoo.ru/88671f20
6	Частные случаи параллелограммов (прямоугольник, ромб, квадрат), их признаки и свойства	1			Библиотека ЦОК https://m.edsoo.ru/8867209c
7	Трапеция	1			Библиотека ЦОК https://m.edsoo.ru/88672358
8	Равнобокая и прямоугольная трапеции	1			Библиотека ЦОК https://m.edsoo.ru/8867252e
9	Равнобокая и прямоугольная трапеции	1			Библиотека ЦОК https://m.edsoo.ru/88672858
10	Метод удвоения медианы	1			Библиотека ЦОК https://m.edsoo.ru/88672b14

11	Центральная симметрия	1		Библиотека ЦОК https://m.edsoo.ru/88672b14
12	Контрольная работа по теме "Четырёхугольники"	1	1	Библиотека ЦОК https://m.edsoo.ru/88672c9a
13	Теорема Фалеса и теорема о пропорциональных отрезках	1		Библиотека ЦОК https://m.edsoo.ru/8867337a
14	Средняя линия треугольника	1		Библиотека ЦОК https://m.edsoo.ru/88672e0c
15	Средняя линия треугольника	1		Библиотека ЦОК https://m.edsoo.ru/88672f38
16	Трапеция, её средняя линия	1		Библиотека ЦОК https://m.edsoo.ru/88672358
17	Трапеция, её средняя линия	1		Библиотека ЦОК https://m.edsoo.ru/88673064
18	Пропорциональные отрезки	1		Библиотека ЦОК https://m.edsoo.ru/88673794
19	Пропорциональные отрезки	1		Библиотека ЦОК https://m.edsoo.ru/88673794
20	Центр масс в треугольнике	1		Библиотека ЦОК https://m.edsoo.ru/886738fc
21	Подобные треугольники	1		Библиотека ЦОК https://m.edsoo.ru/88673a78
22	Три признака подобия треугольников	1		Библиотека ЦОК https://m.edsoo.ru/88673bae
23	Три признака подобия треугольников	1		Библиотека ЦОК https://m.edsoo.ru/88673d52
24	Три признака подобия треугольников	1		Библиотека ЦОК https://m.edsoo.ru/8867400e
25	Три признака подобия треугольников	1		

26	Применение подобия при решении практических задач	1		
27	Контрольная работа по теме "Подобные треугольники"	1	1	Библиотека ЦОК https://m.edsoo.ru/8867445a
28	Свойства площадей геометрических фигур	1		Библиотека ЦОК https://m.edsoo.ru/886745fe
29	Формулы для площади треугольника, параллелограмма	1		Библиотека ЦОК https://m.edsoo.ru/88674860
30	Формулы для площади треугольника, параллелограмма	1		Библиотека ЦОК https://m.edsoo.ru/88674a22
31	Формулы для площади треугольника, параллелограмма	1		Библиотека ЦОК https://m.edsoo.ru/88674a22
32	Формулы для площади треугольника, параллелограмма	1		Библиотека ЦОК https://m.edsoo.ru/88675288
33	Формулы для площади треугольника, параллелограмма	1		Библиотека ЦОК https://m.edsoo.ru/8867542c
34	Вычисление площадей сложных фигур	1		Библиотека ЦОК https://m.edsoo.ru/88674e78
35	Площади фигур на клетчатой бумаге	1		Библиотека ЦОК https://m.edsoo.ru/8867473e
36	Площади подобных фигур	1		
37	Площади подобных фигур	1		
38	Задачи с практическим содержанием	1		Библиотека ЦОК https://m.edsoo.ru/88675558
39	Задачи с практическим содержанием	1		Библиотека ЦОК https://m.edsoo.ru/88675684
40	Решение задач с помощью метода вспомогательной площади	1		Библиотека ЦОК https://m.edsoo.ru/88674f90

41	Контрольная работа по теме "Площадь"	1	1	Библиотека ЦОК https://m.edsoo.ru/8867579c
42	Теорема Пифагора и её применение	1		Библиотека ЦОК https://m.edsoo.ru/88675918
43	Теорема Пифагора и её применение	1		Библиотека ЦОК https://m.edsoo.ru/88675918
44	Теорема Пифагора и её применение	1		Библиотека ЦОК https://m.edsoo.ru/88675abc
45	Теорема Пифагора и её применение	1		
46	Теорема Пифагора и её применение	1		
47	Определение тригонометрических функций острого угла прямоугольного треугольника, тригонометрические соотношения в прямоугольном треугольнике	1		Библиотека ЦОК https://m.edsoo.ru/88675d32
48	Основное тригонометрическое тождество	1		Библиотека ЦОК https://m.edsoo.ru/88675f44
49	Основное тригонометрическое тождество	1		
50	Основное тригонометрическое тождество	1		
51	Контрольная работа по теме "Теорема Пифагора и начала тригонометрии"	1	1	Библиотека ЦОК https://m.edsoo.ru/8a1407e8
52	Вписанные и центральные углы, угол между касательной и хордой	1		Библиотека ЦОК https://m.edsoo.ru/8a1415b2
53	Вписанные и центральные углы, угол между касательной и хордой	1		Библиотека ЦОК https://m.edsoo.ru/8a141940
54	Вписанные и центральные углы, угол между касательной и хордой	1		Библиотека ЦОК https://m.edsoo.ru/8a141b34
55	Углы между хордами и секущими	1		

56	Углы между хордами и секущими	1		
57	Вписанные и описанные четырёхугольники, их признаки и свойства	1		Библиотека ЦОК https://m.edsoo.ru/8a140f86
58	Вписанные и описанные четырёхугольники, их признаки и свойства	1		Библиотека ЦОК https://m.edsoo.ru/8a1416d4
59	Вписанные и описанные четырёхугольники, их признаки и свойства	1		Библиотека ЦОК https://m.edsoo.ru/8a1416d4
60	Применение свойств вписанных и описанных четырёхугольников при решении геометрических задач	1		
61	Применение свойств вписанных и описанных четырёхугольников при решении геометрических задач	1		
62	Взаимное расположение двух окружностей, общие касательные	1		Библиотека ЦОК https://m.edsoo.ru/8a1410a8
63	Касание окружностей	1		Библиотека ЦОК https://m.edsoo.ru/8a1410a8
64	Контрольная работа по теме "Углы в окружности. Вписанные и описанные четырёхугольники"	1	1	Библиотека ЦОК https://m.edsoo.ru/8a141c88
65	Повторение основных понятий и методов курсов 7 и 8 классов, обобщение знаний	1		Библиотека ЦОК https://m.edsoo.ru/8a141ddc
66	Повторение основных понятий и методов курсов 7 и 8 классов, обобщение знаний	1		Библиотека ЦОК https://m.edsoo.ru/8a141efe
67	Итоговая контрольная работа	1	1	Библиотека ЦОК

68 Повторение основных понятий и методов курсов 7 и 8 классов, обобщение знаний

1

ОБЩЕЕ КОЛИЧЕСТВО ЧАСОВ ПО ПРОГРАММЕ

68

6

0

<https://m.edsoo.ru/8a142368>

Библиотека ЦОК

<https://m.edsoo.ru/8a1420ac>

9 КЛАСС

№ п/п	Тема урока	Количество часов			Электронные цифровые образовательные ресурсы
		Всего	Контрольные работы	Практические работы	
1	Определение тригонометрических функций углов от 0° до 180°	1			Библиотека ЦОК https://m.edsoo.ru/8a1424bc
2	Формулы приведения	1			
3	Теорема косинусов	1			Библиотека ЦОК https://m.edsoo.ru/8a14336c
4	Теорема косинусов	1			
5	Теорема косинусов	1			Библиотека ЦОК https://m.edsoo.ru/8a142d5e
6	Теорема синусов	1			Библиотека ЦОК https://m.edsoo.ru/8a142e8a
7	Теорема синусов	1			
8	Теорема синусов	1			
9	Нахождение длин сторон и величин углов треугольников	1			Библиотека ЦОК https://m.edsoo.ru/8a1430b0
10	Решение треугольников	1			Библиотека ЦОК https://m.edsoo.ru/8a142ac0
11	Решение треугольников	1			Библиотека ЦОК https://m.edsoo.ru/8a142ac0
12	Решение треугольников	1			Библиотека ЦОК https://m.edsoo.ru/8a142ac0
13	Решение треугольников	1			Библиотека ЦОК https://m.edsoo.ru/8a142ac0

14	Практическое применение теорем синусов и косинусов	1		Библиотека ЦОК https://m.edsoo.ru/8a142c3c
15	Практическое применение теорем синусов и косинусов	1		
16	Контрольная работа по теме "Решение треугольников"	1	1	Библиотека ЦОК https://m.edsoo.ru/8a14392a
17	Понятие о преобразовании подобия	1		Библиотека ЦОК https://m.edsoo.ru/8a143ab0
18	Соответственные элементы подобных фигур	1		Библиотека ЦОК https://m.edsoo.ru/8a143de4
19	Соответственные элементы подобных фигур	1		
20	Теорема о произведении отрезков хорд, теорема о произведении отрезков секущих, теорема о квадрате касательной	1		Библиотека ЦОК https://m.edsoo.ru/8a14406e
21	Теорема о произведении отрезков хорд, теорема о произведении отрезков секущих, теорема о квадрате касательной	1		Библиотека ЦОК https://m.edsoo.ru/8a1441a4
22	Теорема о произведении отрезков хорд, теорема о произведении отрезков секущих, теорема о квадрате касательной	1		Библиотека ЦОК https://m.edsoo.ru/8a1442da
23	Применение теорем в решении геометрических задач	1		Библиотека ЦОК https://m.edsoo.ru/8a143f06
24	Применение теорем в решении геометрических задач	1		Библиотека ЦОК https://m.edsoo.ru/8a1443fc
25	Применение теорем в решении геометрических задач	1		Библиотека ЦОК https://m.edsoo.ru/8a144578
26	Контрольная работа по теме	1	1	Библиотека ЦОК

	"Преобразование подобия. Метрические соотношения в окружности"			https://m.edsoo.ru/8a1447a8
27	Определение векторов. Физический и геометрический смысл векторов	1		Библиотека ЦОК https://m.edsoo.ru/8a144960
28	Сложение и вычитание векторов, умножение вектора на число	1		Библиотека ЦОК https://m.edsoo.ru/8a144a8c
29	Сложение и вычитание векторов, умножение вектора на число	1		Библиотека ЦОК https://m.edsoo.ru/8a144d52
30	Сложение и вычитание векторов, умножение вектора на число	1		
31	Разложение вектора по двум неколлинеарным векторам	1		
32	Координаты вектора	1		Библиотека ЦОК https://m.edsoo.ru/8a144fbe
33	Скалярное произведение векторов, его применение для нахождения длин и углов	1		Библиотека ЦОК https://m.edsoo.ru/8a14539c
34	Скалярное произведение векторов, его применение для нахождения длин и углов	1		Библиотека ЦОК https://m.edsoo.ru/8a14550e
35	Решение задач с помощью векторов	1		Библиотека ЦОК https://m.edsoo.ru/8a144c3a
36	Решение задач с помощью векторов	1		Библиотека ЦОК https://m.edsoo.ru/8a1458c4
37	Применение векторов для решения задач физики	1		
38	Контрольная работа по теме "Векторы"	1	1	Библиотека ЦОК https://m.edsoo.ru/8a145b08
39	Декартовы координаты точек на плоскости	1		

40	Уравнение прямой	1		Библиотека ЦОК https://m.edsoo.ru/8a145c48
41	Уравнение прямой	1		
42	Уравнение окружности	1		Библиотека ЦОК https://m.edsoo.ru/8a14635a
43	Координаты точек пересечения окружности и прямой	1		Библиотека ЦОК https://m.edsoo.ru/8a146620
44	Метод координат при решении геометрических задач, практических задач	1		
45	Метод координат при решении геометрических задач, практических задач	1		
46	Метод координат при решении геометрических задач, практических задач	1		
47	Контрольная работа по теме "Декартовы координаты на плоскости"	1	1	Библиотека ЦОК https://m.edsoo.ru/8a146e0e
48	Правильные многоугольники, вычисление их элементов	1		Библиотека ЦОК https://m.edsoo.ru/8a146fda
49	Число π . Длина окружности	1		Библиотека ЦОК https://m.edsoo.ru/8a1472c8
50	Число π . Длина окружности	1		Библиотека ЦОК https://m.edsoo.ru/8a14714c
51	Длина дуги окружности	1		
52	Радианная мера угла	1		Библиотека ЦОК https://m.edsoo.ru/8a14714c
53	Площадь круга, сектора, сегмента	1		Библиотека ЦОК

				https://m.edsoo.ru/8a147426
54	Площадь круга, сектора, сегмента	1		Библиотека ЦОК https://m.edsoo.ru/8a147750
55	Площадь круга, сектора, сегмента	1		Библиотека ЦОК https://m.edsoo.ru/8a147750
56	Понятие о движении плоскости	1		Библиотека ЦОК https://m.edsoo.ru/8a147c82
57	Параллельный перенос, поворот	1		Библиотека ЦОК https://m.edsoo.ru/8a147f16
58	Параллельный перенос, поворот	1		Библиотека ЦОК https://m.edsoo.ru/8a147f16
59	Параллельный перенос, поворот	1		
60	Параллельный перенос, поворот	1		
61	Применение движений при решении задач	1		Библиотека ЦОК https://m.edsoo.ru/8a1480e2
62	Контрольная работа по темам "Правильные многоугольники. Окружность. Движения плоскости"	1	1	
63	Повторение, обобщение, систематизация знаний. Измерение геометрических величин. Треугольники	1		Библиотека ЦОК https://m.edsoo.ru/8a148524
64	Повторение, обобщение, систематизация знаний. Параллельные и перпендикулярные прямые	1		Библиотека ЦОК https://m.edsoo.ru/8a148650
65	Повторение, обобщение, систематизация знаний. Окружность и круг. Геометрические построения. Углы в окружности	1		

66	Повторение, обобщение, систематизация знаний. Вписанные и описанные окружности многоугольников	1			
67	Итоговая контрольная работа	1	1		
68	Повторение, обобщение, систематизация знаний	1			
	ОБЩЕЕ КОЛИЧЕСТВО ЧАСОВ ПО ПРОГРАММЕ	68	6		0

Библиотека ЦОК
<https://m.edsoo.ru/8a148920>

**УЧЕБНО-МЕТОДИЧЕСКОЕ ОБЕСПЕЧЕНИЕ ОБРАЗОВАТЕЛЬНОГО
ПРОЦЕССА
ОБЯЗАТЕЛЬНЫЕ УЧЕБНЫЕ МАТЕРИАЛЫ ДЛЯ УЧЕНИКА**

- Геометрия, 7-9 классы/ Атанасян Л.С., Бутузов В.Ф., Кадомцев С.Б. и другие,
Акционерное общество «Издательство «Просвещение»

МЕТОДИЧЕСКИЕ МАТЕРИАЛЫ ДЛЯ УЧИТЕЛЯ

Геометрия. Методические рекомендации Атанасян Л. С., Бутузов В.

Дидактические материалы и методические рекомендации

ЦИФРОВЫЕ ОБРАЗОВАТЕЛЬНЫЕ РЕСУРСЫ И РЕСУРСЫ СЕТИ ИНТЕРНЕТ

- <http://mathem.h1.ru/index.html>—
- <http://www.alleng.ru/edu/math1.htm>
- <http://www.bymath.net/>

Система оценивания

4.3. Особенности оценивания по математике

4.3.1. Оценка устных ответов обучающихся по математике

4.3.1.1. Ответ оценивается отметкой «5», если обучающийся:

- полно раскрыл содержание материала в объеме, предусмотренном программой учебников;
- изложил материал грамотным языком в определенной логической последовательности, точно используя математическую терминологию и символику;
- правильно выполнил рисунки, чертежи, графику, сопутствующие ответу;
- показал умение иллюстрировать теоретические положения конкретными примерами, применять их в новой ситуации при выполнении практического задания;
- продемонстрировал усвоение ранее изученных сопутствующих вопросов, сформированность и устойчивость используемых при ответе навыков и умений;
- отвечал самостоятельно без наводящих вопросов учителя.

4.3.1.2. Ответ оценивается отметкой «4», если обучающийся ответил по требованиям на отметку «5», но при этом имеет один из недостатков:

- в изложении допущены небольшие пробелы, не исказившие математическое содержание ответа;
- допущены 1–2 недочета при освещении основного содержания ответа, исправленные по замечанию учителя;
- допущены ошибка или более двух недочетов при освещении второстепенных вопросов или в выкладках, легко исправленные по замечанию учителя.

4.3.1.3. Отметка «3» ставится, если обучающийся:

- неполно или непоследовательно раскрыл содержание материала, но показал общее понимание вопроса и продемонстрировал умения, достаточные для дальнейшего усвоения программного материала;
- имел затруднения или допустил ошибки в определении понятий, использовании математической терминологии, чертежах, выкладках, исправленные после нескольких наводящих вопросов учителя;
- не справился с применением теории в новой ситуации при выполнении практического задания, но выполнил задания обязательного уровня сложности по данной теме;
- при знании теоретического материала выявлена недостаточная сформированность основных умений и навыков.

4.3.1.4. Отметка «2» ставится, если обучающийся:

- не раскрыл основного содержания учебного материала;
- обнаружил незнание или непонимание большей или наиболее важной части учебного материала;
- допустил ошибки в определении понятий, при использовании математической терминологии, в рисунках, чертежах или графиках, в выкладках, которые не исправлены после нескольких наводящих вопросов учителя.

4.3.2. Оценка письменных контрольных работ учащихся

4.3.2.1. Отметка «5» ставится, если обучающийся:

- выполнил работу полностью;
- не допустил пробелов и ошибок в логических рассуждениях и обосновании;
- не допустил математических ошибок в решении.

4.3.2.2. Отметка «4» ставится, если обучающийся:

- выполнил работу полностью, но обоснования шагов решения недостаточны (если умение обосновывать рассуждения не являлось специальным объектом проверки);
- допустил одну ошибку или 2–3 недочета в выкладках, рисунках, чертежах или графиках (если эти виды работы не являлись специальным объектом проверки).

4.3.2.3. Отметка «3» ставится, если обучающийся:

- владеет обязательными умениями по проверяемой теме;
- допустил более одной ошибки или более 2–3 недочетов в выкладках, чертежах или графиках.

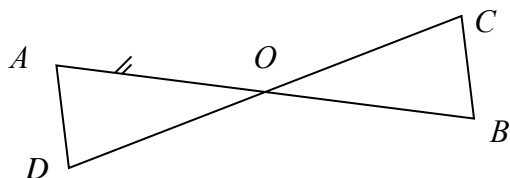
4.3.2.4. Отметка «2» ставится, если обучающийся:

- не владеет обязательными умениями по данной теме в полной мере;
- допустил существенные ошибки.

Контрольная работа № 1.

1 вариант.

1). На рисунке 1 отрезки AB и CD имеют общую середину O . Докажите, что $\angle DAO = \angle CBO$.

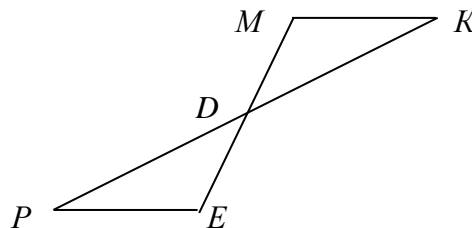


2). Луч AD – биссектриса угла A . На сторонах угла A отмечены точки B и C так, что $\angle ADB = \angle ADC$. Докажите, что $AB = AC$.

3). В равнобедренном треугольнике с периметром 48 см боковая сторона относится к основанию как $5 : 2$. Найдите стороны треугольника.

2 вариант.

1). На рисунке 1 отрезки ME и PK точкой D делятся пополам. Докажите, что $\angle KMD = \angle PED$.



2). На сторонах угла D отмечены точки M и K так, что $DM = DK$. Точка P лежит внутри угла D и $PK = PM$. Докажите, что луч DP – биссектриса угла MDK .

3). В равнобедренном треугольнике с периметром 56 см основание относится к боковой стороне как $2 : 3$. Найдите стороны треугольника.

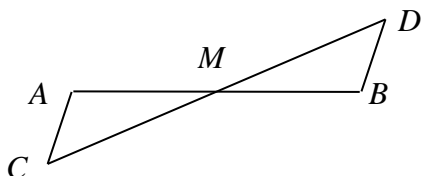
Контрольная работа № 2.

1 вариант.

1). Отрезки EF и PQ пересекаются в их середине M . Докажите, что $PE \parallel QF$.

2). Отрезок DM – биссектриса треугольника CDE . Через точку M проведена прямая, параллельная стороне CD и пересекающая сторону DE в точке N . Найдите углы треугольника DMN , если $\angle CDE = 68^\circ$.

3). На рисунке $AC \parallel BD$, точка M – середина отрезка AB . Докажите, что M – середина отрезка CD .

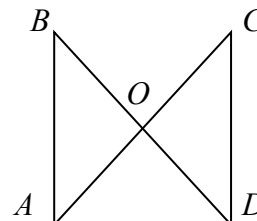


2 вариант.

1). Отрезки MN и EF пересекаются в их середине P . Докажите, что $EN \parallel MF$.

2). Отрезок AD – биссектриса треугольника ABC . Через точку D проведена прямая, параллельная стороне FD и пересекающая сторону AC в точке F . Найдите углы треугольника ADF , если $\angle BAC = 72^\circ$.

3). На рисунке $AB \parallel DC$, $AB = DC$. Докажите, что точка O – середина отрезков AC и BD .



Контрольная работа № 3.

1 вариант.	2 вариант.
<p>1). В остроугольном треугольнике MNP биссектриса угла M пересекает высоту NK в точке O, причём $OK = 9$ см. Найдите расстояние от точки O до прямой MN.</p> <p>2). Постройте прямоугольный треугольник по гипотенузе и острому углу.</p> <p>3). Один из углов прямоугольного треугольника равен 60°, а сумма гипотенузы и меньшего катета равна 42 см. Найдите гипотенузу.</p>	<p>1). В прямоугольном треугольнике DCE с прямым углом C проведена биссектриса EF, причём $FC = 13$ см. Найдите расстояние от точки F до прямой DE.</p> <p>2). Постройте прямоугольный треугольник по катету и прилежащему к нему острому углу.</p> <p>3). В треугольнике ABC $\angle B = 110^\circ$, биссектрисы углов A и C пересекаются в точке O. Найдите угол AOC.</p>

Итоговая контрольная работа

1 вариант.	2 вариант.
<p>1). В равнобедренном треугольнике ABC с основанием AC угол B равен 42°. Найдите два других угла треугольника ABC.</p> <p>2). Величины смежных углов пропорциональны числам 5 и 7. Найдите разность между этими углами.</p> <p>3). В прямоугольном треугольнике ABC $\angle C = 90^\circ$, $\angle A = 30^\circ$, $AC = 10$ см, $CD \perp AB$, $DE \perp AC$. Найдите AE.</p> <p>4). В треугольнике MPK угол P составляет 60° угла K, а угол M на 4° больше угла P. Найдите угол P.</p>	<p>1). В равнобедренном треугольнике ABC с основанием AC сумма углов A и C равна 156°. Найдите углы треугольника ABC.</p> <p>2). Величины смежных углов пропорциональны числам 4 и 11. Найдите разность между этими углами.</p> <p>3). В прямоугольном треугольнике ABC $\angle C = 90^\circ$, $\angle B = 30^\circ$, $BC = 18$ см, $CK \perp AB$, $KM \perp BC$. Найдите MB.</p> <p>4). В треугольнике BDE угол B составляет 30° угла D, а угол E на 19° больше угла D. Найдите угол B.</p>

8 класс**Контрольная работа №1 «Четырёхугольники»****Вариант 1**

1. Диагонали прямоугольника $ABCD$ пересекаются в точке O , $\angle ABO = 36^\circ$. Найдите угол AOD .
2. Найдите углы прямоугольной трапеции, если один из ее углов равен 20° .
3. Стороны параллелограмма относятся как 1 : 2, а его периметр равен 30 см. Найдите стороны параллелограмма.
4. В равнобокой трапеции сумма углов при большем основании равна 96° . Найдите

углы трапеции.

Вариант 2

1. Диагонали прямоугольника MNKP пересекаются в точке O, $\angle MON = 64^\circ$. Найдите угол OMP.
2. Найдите углы равнобокой трапеции, если один из ее углов на 30° больше второго.
3. Стороны параллелограмма относятся как 3 : 1, а его периметр равен 40 см. Найдите стороны параллелограмма.
4. В прямоугольной трапеции разность углов при одной из боковых сторон равна 48° . Найдите углы трапеции.

Контрольная работа №2 «Подобные треугольники»

Вариант 1

1. Дано: $\angle A = \angle B$, $CO = 4$, $DO = 6$, $AO = 5$ (рис. 7.54). Найти: а) OB , б) $AC : BD$; в) $S_{AOC} : S_{BOD}$.
2. В треугольнике ABC $AB = 4$ см, $BC = 7$ см, $AC = 6$ см, а в треугольнике MNK $MK = 8$ см, $MN = 12$ см, $KN = 14$ см. Найдите углы треугольника MNK, если $\angle A = 80^\circ$, $\angle B = 60^\circ$.
3. Прямая пересекает стороны треугольника ABC в точках M и K соответственно так, что $MK \parallel AC$, $BM : AM = 1 : 4$. Найдите периметр треугольника BMK, если периметр треугольника ABC равен 25 см.
4. * В трапеции ABCD (AD и BC основание) диагонали пересекаются в точке O, $AD = 12$ см, $BC = 4$ см. Найдите площадь треугольника BOC, если площадь треугольника AOD равна 45 см^2 .

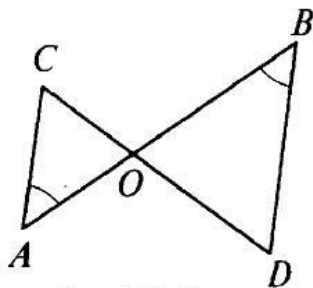


Рис. 7.54

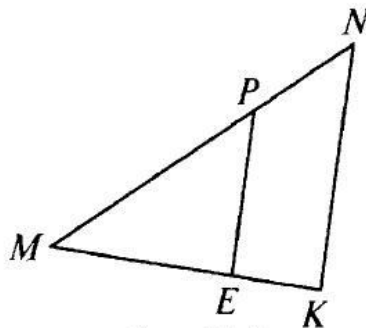


Рис. 7.55

Вариант 2

1. Дано: $PE \parallel NK$, $MP = 8$, $MN = 12$, $ME = 6$ (рис. 7.55). Найти: а) MK ; б) $PE : NK$; в) $S_{MPE} : S_{MNK}$.
2. В $\triangle ABC$ $AB = 12$ см, $BC = 18$ см, $\angle B = 70^\circ$, а в $\triangle MNK$ $MN = 6$ см, $NK = 9$ см, $\angle N = 70^\circ$. Найдите сторону AC и угол C треугольника ABC, если $MK = 7$ см, $\angle K = 60^\circ$.
3. Отрезки AB и CD пересекаются в точке O так, что $\angle ACO = \angle BDO$, $AO : OB = 2 : 3$. Найдите периметр треугольника ACO, если периметр треугольника BOD равен 21 см.
4. * В трапеции ABCD (AD и BC основания) диагонали пересекаются в точке O, $S_{AOD} = 32 \text{ см}^2$, $S_{BOC} = 8 \text{ см}^2$. Найдите меньшее основание трапеции, если большее из них равно 10 см.

Контрольная работа №3 «Площадь»

Вариант 1

1. Сторона треугольника равна 5 см, а высота, проведенная к ней, в два раза больше стороны. Найдите площадь треугольника.
2. Катеты прямоугольного треугольника равны 6 см и 8 см. Найдите гипотенузу и площадь треугольника.
3. Найдите площадь и периметр ромба, если его диагонали равны 8 см и 10 см.
4. * В прямоугольной трапеции ABCD большая боковая сторона равна $3\sqrt{2}$ см, угол C равен 45° , а высота CH делит основание AK пополам. Найдите площадь трапеции.

Вариант 2

1. Сторона треугольника равна 12 см, а высота, проведенная к ней, в три раза меньше этой стороны. Найдите площадь треугольника.
2. Один из катетов прямоугольного треугольника равен 12 см, а гипотенуза 13 см. Найдите второй катет и площадь треугольника.
3. Диагонали ромба равны 10 см и 12 см. Найдите его площадь и периметр.
4. * В прямоугольной трапеции ABCD большая боковая сторона равна 8 см, угол A равен 60° , а высота VH делит основание AD пополам. Найдите площадь трапеции.

Контрольная работа №4 «теорема Пифагора»

Вариант 1.

1. Катеты прямоугольного треугольника равны 12 и 16, найдите гипотенузу.
2. В равнобедренном треугольнике боковая сторона равна 10 см, основание 6 см, Найдите высоту этого треугольника, проведенную к основанию.
3. Найдите высоту треугольника, проведенную к большей стороне, если стороны треугольника равны 29 мм, 25 мм и 6 мм. Ответ выразите в сантиметрах.
4. Диагональ ромба равна 24 см, сторона 14. Найдите площадь ромба.

Вариант 2

1. Катеты прямоугольного треугольника равны 24 и 18, найдите гипотенузу.
2. В равнобедренном треугольнике боковая сторона равна 5 см, основание 3 см, Найдите высоту этого треугольника, проведенную к основанию.
3. Найдите высоту треугольника, проведенную к меньшей стороне, если стороны треугольника равны 36 мм, 25 мм и 29 мм. Ответ выразите в сантиметрах.
4. Найдите периметр ромба, если его диагонали равны 60 см и 80 см.

Контрольная работа №5 «Углы в окружности»

Вариант 1

1. AB и AC — отрезки касательных, проведенные к окружности радиусом 9 см. Найдите длины отрезков AC и AO , если $AB = 12$ см.
2. Дано: $\sphericalangle AOB : \sphericalangle BOC = 11 : 12$ (рис. 8.178). Найдите: $\sphericalangle BCA$, $\sphericalangle BAC$.
3. Хорды MN и PK пересекаются в точке E так, что $ME = 12$ см, $NE = 3$ см, $PE = KE$. Найдите PK .
4. * Окружность с центром O и радиусом 16 см описана около треугольника ABC так, что $\sphericalangle OAB = 30^\circ$, $\sphericalangle OCB = 45^\circ$. Найдите стороны AB и BC треугольника.

Вариант 2

1. MN и MK — отрезки касательных, проведенные к окружности радиусом 5 см. Найдите MN и MK , если $MO = 13$ см.
2. Дано: $\sphericalangle AOB : \sphericalangle AOC = 5 : 3$ (рис. 8.179). Найдите: $\sphericalangle BOC$, $\sphericalangle ABC$.
3. Хорды AB и CD пересекаются в точке F так, что $AF = 4$ см, $BF = 16$ см, $CF = DF$. Найдите CD .
4. * Окружность с центром O и радиусом 12 см описана около треугольника MNK так, что $\sphericalangle MON = 120^\circ$, $\sphericalangle NOK = 90^\circ$. Найдите стороны MN и NK треугольника.

Итоговая контрольная работа

1 вариант

1. Боковая сторона равнобедренного треугольника равна 10 см, а его основание 12 см. Найдите его площадь.
2. Биссектриса угла A параллелограмма $ABCD$ делит сторону BC на отрезки BK и KC , равные соответственно 8 см и 4 см. Найдите периметр параллелограмма.
3. В трапеции $ABCD$ углы A и B прямые. Диагональ AC — биссектриса угла A и равна 6 см. Найдите площадь трапеции, если угол CDA равен 60° .
4. В окружности проведены две хорды AB и CD , пересекающиеся в точке K , $KC = 6$ см, $AK = 8$ см, $BK + DK = 28$ см. Найдите длины BK и DK .
5. Квадрат со стороной 8 см описан около окружности. Найдите площадь прямоугольного треугольника с острым углом 30° , вписанного в данную окружность.

2 вариант

1. Боковая сторона равнобедренного треугольника равна 13 см, а его медиана, проведенная к основанию, равна 5 см. Найдите площадь и периметр треугольника.
2. Диагонали ромба равны 8 см и 6 см. Найдите периметр и площадь ромба.
3. В равнобедренной трапеции $ABCD$ диагональ AC перпендикулярна боковой стороне CD . Найдите площадь трапеции, если угол CAD равен 30° , $AD = 12$ см.
4. В окружности проведены две хорды AB и CD , пересекающиеся в точке M , $MB = 10$ см, $AM = 12$ см, $DC = 23$ см. Найдите длины CM и DM .
5. Прямоугольный треугольник с катетами 4 см вписан в окружность. Найдите площадь правильного шестиугольника, описанного около данной окружности.

Геометрия 9 класс

Контрольная работа №1 «Решение треугольников»

Вариант 1

1. В треугольнике ABC $\angle A = 45^\circ$, $\angle B = 60^\circ$, $BC = 3\sqrt{2}$. Найдите AC .
2. Две стороны треугольника равны 7 см и 8 см, а угол между ними равен 120° . Найдите третью сторону треугольника.
3. Определите вид треугольника ABC , если $A(3; 9)$, $B(0; 6)$, $C(4; 2)$.
4. * В треугольнике ABC $AB = BC$, $\angle CAB = 30^\circ$, AE — биссектриса, $BE = 8$ см. Найдите площадь треугольника ABC .

Вариант 2

1. В треугольнике CDE $\angle C = 30^\circ$, $\angle D = 45^\circ$, $CE = 5\sqrt{2}$. Найдите DE .
2. Две стороны треугольника равны 5 см и 7 см, а угол между ними равен 60° . Найдите третью сторону треугольника.
3. Определите вид треугольника ABC , если $A(3; 9)$, $B(0; 6)$, $C(4; 2)$.
4. * В ромбе $ABCD$ AK — биссектриса угла CAB , $\angle BAD = 60^\circ$, $BK = 12$ см. Найдите площадь ромба.

Контрольная работа №2 «метрические соотношения в окружности»

Вариант 1

1. В равнобедренной трапеции $ABCD$ диагональ AC и высота BE пересекаются в точке O . Меньшее основание BC равно 3 см. $BO:OE=2:3$. Найдите большее основание.
2. Из точки A вне окружности проведены две секущие: ABC и ADK . $AC=20$ см; $AK=25$ см; $AB=DK$. Найдите DK .
3. Из точки A вне окружности проведены секущая, длиной 12 см, и касательная, длина которой в 2 раза меньше отрезка секущей, находящегося внутри окружности. Найдите длину касательной.
4. Из точки на окружности проведены 2 хорды длиной 10 см. и 12 см. Известно, что расстояние от середины меньшей хорды до большей хорды равно 4 см. Найдите радиус окружности.

Вариант 2

1. В равнобедренной трапеции $ABCD$ большее основание AD равно 7 см. Диагональ AC и высота BE пересекаются в точке O . $BO:OE=3:2$. Найдите меньшее основание.
2. Из точки B вне окружности проведены две секущие: BKC и VDN . $BK=20$ см; $KC=12$ см; $VD:DN=2:3$. Найдите BN .
3. Из точки P вне окружности проведены секущая, длиной 10 см и касательная, длина которой в 2 раза меньше отрезка секущей, находящегося внутри окружности. Найдите длину касательной.
4. Из точки на окружности проведены 2 хорды длиной 6 см. и 10 см. Длина отрезка, соединяющая их середины, составляет 4 см. Найдите радиус окружности.

Контрольная работа №3 «Векторы»

Вариант 1

1. Начертите два неколлинеарных вектора a и b . Постройте векторы, равные: а) $-a/2 + 3b$; б) $2b - a$.
2. На стороне BC ромба $ABCD$ лежит точка K так, что $BK = KC$, O — точка пересечения диагоналей. Выразите векторы AO , AK , KD через векторы $a = AB$

и $b = AD$.

3. В равнобедренной трапеции высота делит большее основание на отрезки, равные 5 см и 12 см. Найдите среднюю линию трапеции.
4. * В треугольнике ABC точка O — точка пересечения медиан. Выразите вектор AO через векторы $a = AB$ и $b = AC$.

Вариант 2

1. Начертите два неколлинеарных вектора m и n . Постройте векторы, равные: а) — $m/3 + 2n$; б) $3n - m$.
2. На стороне CD квадрата ABCD лежит точка P так, что $CP = PD$, O — точка пересечения диагоналей. Выразите векторы BO, BP, PA через векторы $x = BA$ и $y = BC$.
3. В равнобедренной трапеции один из углов равен 60° , боковая сторона равна 8 см, а меньшее основание — 7 см. Найдите среднюю линию трапеции.
4. * В треугольнике MNK точка O — точка пересечения медиан, $MN = x$, $MK = y$, $MO = k(x + y)$. Найдите число k .

Контрольная работа №4 «Декартовы координаты на плоскости»

Вариант 1 (транскрипт заданий)

1. Найдите координаты и длину вектора a , если $a = m/3 - n$, $m\{-3; 6\}$, $n\{2; -2\}$.
2. Напишите уравнение окружности с центром в точке $A(-3; 2)$, проходящей через точку $B(0; -2)$.
3. Треугольник MNK задан координатами своих вершин: $M(-6; 1)$, $N(2; 4)$, $K(2; -2)$.
а) Докажите, что $\triangle MNK$ — равнобедренный.
б) Найдите высоту, проведенную из вершины M.
4. * Найдите координаты точки N, лежащей на оси абсцисс и равноудаленной от точек $P(-1; 3)$ и $K(0; 2)$.

Вариант 2 (транскрипт заданий)

1. Найдите координаты и длину вектора b , если $b = c/2 - d$, $c\{6; -2\}$, $d\{1; -2\}$.
2. Напишите уравнение окружности с центром в точке $C(2; 1)$, проходящей через точку $D(5; 5)$.
3. Треугольник CDE задан координатами своих вершин: $C(2; 2)$, $D(6; 5)$, $E(5; -2)$.
а) Докажите, что $\triangle CDE$ — равнобедренный.
б) Найдите биссектрису, проведенную из вершины C.
4. * Найдите координаты точки A, лежащей на оси ординат и равноудаленной от точек $B(1; -3)$ и $C(2; 0)$.

Контрольная работа № 5 «Правильные многоугольники»

Вариант 1

1. Найдите углы правильного сорокаугольника.
2. Найдите длину окружности, вписанной в правильный треугольник со стороной 12 см.
3. В окружность вписан квадрат со стороной 8 см. Найдите сторону правильного шестиугольника, описанного около этой окружности.

4. Радиус окружности, описанной около правильного многоугольника, равен 4 см, а сторона многоугольника — $4\sqrt{3}$ см. Найдите: 1) радиус окружности, вписанной в многоугольник; 2) количество сторон многоугольника.

5. Сторона треугольника равна $6\sqrt{3}$ см, а прилежащие к ней углы равны 40° и 80° . Найдите длины дуг, на которые делят описанную окружность треугольника его вершины.

6. Углы правильного треугольника со стороной 6 см срезали так, что получили правильный шестиугольник. Найдите сторону образовавшегося шестиугольника.

Вариант 2

1. Найдите углы правильного сорокапятиугольника.

2. Найдите площадь круга, вписанного в правильный шестиугольник со стороной 10 см.

3. Около окружности описан правильный треугольник со стороной 18 см. Найдите сторону квадрата, вписанного в эту окружность.

4. Радиус окружности, вписанной в правильный многоугольник, равен 5 см, а сторона многоугольника — 10 см. Найдите: 1) радиус окружности, описанной около многоугольника; 2) количество сторон многоугольника.

5. Сторона треугольника равна $8\sqrt{2}$ см, а прилежащие к ней углы равны 35° и 100° . Найдите длины дуг, на которые делят описанную окружность треугольника его вершины.

6. Углы квадрата со стороной 8 см срезали так, что получили правильный восьмиугольник. Найдите сторону образовавшегося восьмиугольника.

Контрольная работа №6 «Итоговая»

Вариант 1

1. Какие из следующих утверждений верны?

1) Любые два прямоугольных треугольника подобны.

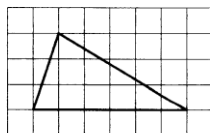
2) Стороны треугольника пропорциональны косинусам противолежащих углов.

3) Если катет и гипотенуза прямоугольного треугольника равны соответственно 6 и 10, то второй катет этого треугольника равен 8.

4) Квадрат любой стороны треугольника равен сумме квадратов двух других сторон без удвоенного произведения этих сторон на косинус угла между ними.

2.

На клетчатой бумаге с размером клетки 1×1 изображён треугольник. Найдите его площадь.



3. На окружности с центром O отмечены точки A и B так, что $\angle AOB = 84^\circ$. Длина меньшей дуги AB равна 70. Найдите длину большей дуги.

4. Найдите площадь квадрата, около которого описана окружность радиуса 6.

5. Сторона равностороннего треугольника равна $10\sqrt{3}$. Найдите его биссектрису.

6. Прямая, параллельная стороне AC треугольника ABC , пересекает стороны AB и BC в

точках M и N соответственно. Найдите BN , если $MN = 13$, $AC = 65$, $NC = 28$.

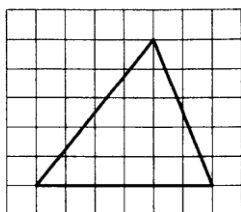
Вариант 2

- Какие из следующих утверждений верны?
 - Квадрат любой стороны треугольника равен сумме квадратов двух других сторон без удвоенного произведения этих сторон на синус угла между ними.
 - Стороны треугольника пропорциональны синусам противолежащих углов.
 - Если катеты прямоугольного треугольника равны 5 и 12, то его гипотенуза равна 13.
 - Квадрат любой стороны треугольника равен сумме квадратов двух других сторон без удвоенного произведения этих сторон на косинус угла между ними.

Если утверждений несколько, запишите их номера в порядке возрастания.

2.

На клетчатой бумаге с размером клетки 1×1 изображён треугольник. Найдите его площадь.



- На окружности с центром O отмечены точки A и B так, что $\angle AOB = 55^\circ$. Длина меньшей дуги AB равна 99. Найдите длину большей дуги.
- Найдите площадь квадрата, около которого описана окружность радиуса 8.
- Сторона равностороннего треугольника равна $6\sqrt{3}$. Найдите его медиану.
- Прямая, параллельная стороне AB треугольника ABC , пересекает стороны AC и BC в точках K и E соответственно. Найдите BE , если $KE = 4$, $BC = 12$, $AB = 6$.

